

Вариант № 7355332**1. Задание 15**

Файл размером 80 Кбайт передаётся через некоторое соединение со скоростью 2048 бит в секунду. Определите размер файла (в Кбайт), который можно передать за то же время через другое соединение со скоростью 768 бит в секунду. В ответе укажите одно число — размер файла в Кбайт. Единицы измерения писать не нужно.

2. Задание 15

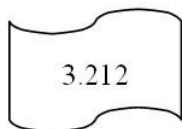
Файл размером 1000 Кбайт передаётся через некоторое соединение в течение 1 минуты. Определите размер файла (в Кбайт), который можно передать через это соединение за 36 секунд. В ответе укажите одно число — размер файла в Кбайт. Единицы измерения писать не нужно.

3. Задание 15

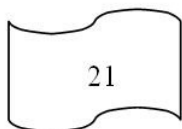
Файл размером 9 Мбайт передаётся через некоторое соединение за 240 секунд. Определите размер файла (в Мбайт), который можно передать через это же соединение за 80 секунд. В ответе укажите одно число — размер файла в Мбайт. Единицы измерения писать не нужно.

4. Задание 12

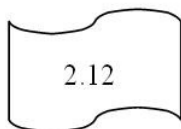
Петя записал IP-адрес школьного сервера на листке бумаги и положил его в карман куртки. Петина мама случайно постирала куртку вместе с запиской. После стирки Петя обнаружил в кармане четыре обрывка с фрагментами IP-адреса. Эти фрагменты обозначены буквами А, Б, В и Г. Восстановите IP-адрес. В ответе укажите последовательность букв, обозначающих фрагменты, в порядке, соответствующем IP-адресу.



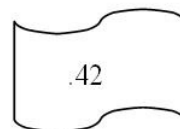
А



Б



В



Г

РЕШИУ.РФ

5. Задание 12

На сервере test.edu находится файл demo.net, доступ к которому осуществляется по протоколу http. Фрагменты адреса данного файла закодированы буквами А, Б ... Ж (см. таблицу). Запишите последовательность этих букв, которая кодирует адрес указанного файла в Интернете.

А	test
Б	demo
В	://
Г	/
Д	http
Е	.edu
Ж	.net

6. Задание 12

Доступ к файлу index.html, размещенному на сервере www.ftp.ru, осуществляется по протоколу http. В таблице приведены фрагменты адреса этого файла, обозначенные буквами от А до З. Запишите последовательность этих букв, соответствующую адресу данного файла.

А	.html
Б	www.
В	/
Г	ftp
Д	.ru
Е	http
Ж	index
З	://